

بنك أسئلة للصف السابع مادة الدراسات الاجتماعية
الفصل الدراسي الثاني

م	نوع السؤال	نص السؤال	نموذج الإجابة	الوحدة - الدرس - الصفحة	ملاحظات
١	تذكر	المرحلة التي استأنس فيها الإنسان الحيوانات ضمن مرحلة تطور المجتمعات البشرية	ب- الصيد والرعي	٤ - ١ - ص ١١	
		أ - الجمع و الالتقاط ب- الصيد و الرعي ج- الزراعة د- التجارة			
٢	تذكر	المرحلة التي كان يبذل في الانسان جهدا قليلا في حياته هي :	أ- الجمع و الالتقاط	٤ - ١ - ص ١١	
		أ - الجمع و الالتقاط ب- الصيد و الرعي ج- الزراعة د- التجارة			
٣	تذكر	المرحلة التي زادت فيها حاجة الإنسان التي قد لا تتوفر في الطبيعة بشكل مباشر :	د- الصناعة	٤ - ١ - ص ١٣	
		أ - الجمع و الالتقاط ب- الصيد و الرعي ج- الزراعة د- الصناعة			
٤	تذكر	أحد السمات التي يتميز بها الريف عن المدينة :	أ- انتشار الأسر الممتدة	٤ - ١ - ص ١٤	
		أ- انتشار الأسر الممتدة ب- الصناعة الحرفة الرئيسية ج - ارتفاع قيمة الأرض د- تطور خدمات البنى التحتية			

٥	تطبيق	العامل البشري الذي أسهم في تناقص الإنتاج الزراعي في الريف هو :				ج - تغير النظرة إلى العمل الزراعي	٤ - ٢ - ص ٢٠
		أ- انجراف التربة الناتج عن الأمطار الغزيرة	ب- التصحر الناتج عن الجفاف	ج - تغير النظرة إلى العمل الزراعي	د- تناقص موارد المياه		
٦	تذكر	أحد السمات التي يتميز بها الريف عن المدينة				د- البيت محور الحياة الاجتماعية	٤ - ٢ - ص ١٧
		أ- تطور خدمات البنى التحتية	ب- الصناعة الحرفة الرئيسية	ج - ارتفاع قيمة الأرض	د- البيت محور الحياة الاجتماعية		
٧	تذكر	المدن المليونية الضخمة يزيد عدد سكانها بالمليون نسمة عن :				د- ١٢	٤ - ٣ - ص ٢٤
		أ- ٣	ب- ٦	ج - ٩	د- ١٢		
٨	تذكر	تقع المدينة المليونية الضخمة ساو باولو التي تعتبر الأسرع نموا في قارة				د- أميركا الجنوبية	٤ - ٣ - ص ٢٥
		أ- آسيا	ب- أميركا الشمالية	ج - أوروبا	د- أميركا الجنوبية		

٨	تطبيق	مدن الأكواخ ظهرت في المدن الضخمة بسبب مشكلة				أ- الإسكان	٤ - ٣ - ص ٢٧	
		أ- الإسكان	ب- ضعف الخدمات	ج- التلوث	د- الازدحام المروري			
٩	تطبيق	ضيق ساعات العمل تظهر في المدن الضخمة بسبب مشكلة :				د- الازدحام المروري	٤ - ٣ - ص ٢٩	
		أ- الإسكان	ب- نقص الكهرباء	ج- التلوث	د- الازدحام المروري			
١٠	تذكر	العامل الذي أسهم بشكل كبير في الدول المتقدمة إلى زيادة نمو المدن وتضخمها هو :				أ- الثورة الصناعية	٤ - ٣ - ص ٢٣	
		أ- الثورة الصناعية	ب- التطور الصحي	ج - ارتفاع معدلات المواليد	د- توفر السكن الملائم			
١١	تذكر	المدينة التي تصنف من أكبر مدن العالم من بين المدن التالية هي :				ج - طوكيو	٤ - ٣ - ص ٢٥	
		أ- القاهرة	ب- لندن	ج - طوكيو	د- باريس			
١١	تذكر	ظهر بناء الأهرامات في تاريخ الحضارة المصرية في عصر :				ب- الدولة القديمة	٥ - ١ - ص ٤٣	
		أ- ما قبل التاريخ	ب- الدولة القديمة	ج - الدولة الحديثة	د- الدولة الحديثة			

			المصري	الوسطى	
١٢	تذكر	حفر المصريون قناة تربط بين البحر الأحمر و البحر المتوسط عن طريق نهر النيل في عصر : أ - ما قبل التاريخ المصري د - ب - الدولة القديمة ج - الدولة الوسطى د - الدولة الحديثة	ج - الدولة الوسطى	٥ - ١ - ص ٤٥	
١٣	تذكر	تمكن المصريون القدامى من طرد الهكسوس في عصر الدولة : أ - ما قبل التاريخ المصري ب - الدولة القديمة ج - الوسطى د - الحديثة	د - الحديثة	٥ - ١ - ص ٤٨	
١٤	تذكر	من أقدم الشعوب التي استقرت في السهل الجنوبي للعراق : أ - السومريون ب - الأكاديون ج - البابليون د - الآشوريون	أ - السومريون	٥ - ٢ - ص ٥٢	


١٥	تذكر	امتد نفوذهم إلى رأس الخليج العربي وأشرفوا على بعض تجارة الخليج في دلمون و مجان هم :	أ- السومريون ب- الأكاديون ج- البابليون د- الآشوريون	ب- الأكاديون	٥ - ٢ - ٥٤
١٦	تذكر	الحضارة التي قامت في المناطق الشمالية من بلاد الرافدين :	أ- السومريون ب- الأكاديون ج- الآشوريون د- البابليون	ج - الآشوريون	٥ - ٢ - ص ٥٧
١٧	تذكر	بوابة عشتار إحدى المعالم التاريخية التي بناها :	أ- السومريون ب- الأكاديون ج- الكلدانيون د- الآشوريون	ج - الكلدانيون	٥ - ٢ - ص ٥٩
١٨	تذكر	تعتبر أول أمة بحرية في التاريخ	أ- الفراعنة ب- الأموريون ج- الأراميون د- الفينيقيون	د- الفينيقيون	٥ - ٣ - ص ٦٦
١٩	تذكر	يعد من أوائل الشعوب السامية التي هاجرت من شبه الجزيرة العربية إلى سهول بلاد الشام الشمالية :	أ- الأموريون ب- الأراميون ج- الفينيقيون د- العبرانيون	أ- الأموريون	٥ - ٣ - ص ٦٢
٢٠	تذكر	الحضارة التي يعود إليها الفضل في اكتشاف النجم القطبي :		د- الفينيقيون	٥ - ٣ - ص ٦٧

			أ- الفراعنة	ب- الأموريون	ج- الأراميون	د- الفينيقيون
			يحسب لهم تطوير أبجدية خاصة اشتقوها من الأبجدية الفينيقية التي تطورت منها الكتابة العربية :			
		ب- الأراميون	أ- الأموريون	ب- الأراميون	ج- الفينيقيون	د- العبرانيون
	٢١	تذكر				

بنك أسئلة للصف السابع الأسئلة المقالية مادة الدراسات الاجتماعية
الفصل الدراسي الثاني

م	نوع السؤال	نص السؤال	نموذج الإجابة	الوحدة - الدرس - الصفحة	ملاحظات
١	فهم	عرف التنمية الريفية .	- هي خطط يتم تصميمها بهدف تطوير الحياة الاقتصادية و الاجتماعية لمجموعة معينة من الناس في المناطق الريفية .	٤ - ١ - ص ١٨	
٢	فهم	عرف الريف .	- هي مناطق الاستقرار في القرى سواء كانت قرى صغيرة أم كبيرة . وتعد حياة الريف من أشكال الحياة التي سبقت ظهور المدن .	٤ - ١ - ص ١٤	
٣	قدرات / تقويم	- اقترح الحلول المناسبة للتخفيف من تزايد السكان في مدن السلطنة .	تنمية المناطق الريفية في الجوانب المختلفة مثل : - تنفيذ برامج تنموية تهدف إلى زيادة الانتاج الزراعي . - تحسين الخدمات الصحية في الريف . - توسع الطرق في المناطق الريفية . - تطوير الاسكان في المناطق الريفية .	٤ - ٢ - ص ١٨	
٤	قدرات / تقويم	" ينتج عن حركة الهجرة من الريف إلى الحضر مشكلات اقتصادية منها انخفاض الإنتاج الزراعي الذي يمثل الأمن الغذائي للدول " - اقترح الحلول المناسبة لتنمية الإنتاج الزراعي في الريف .	- تقديم الدعم للمزارعين المتمثل في : أجهزة الري الحديثة و تقديم البذور والشتلات و تقديم الإرشاد الزراعي المناسب . (ما يفيد المعنى)	٤ - ٢ - ص ٢٢	

٥	قدرات / تقويم	- اقترح الحلول المناسبة لحل مشكلة الازدحام و الاختناقات المرورية في مدينة صلالة.	- توسعة الطرق مزدوجة المسار . - إنشاء الجسور . - تحويل الطرق الداخلية التي يصعب توسعتها إلى طريق أحادي الاتجاه . - إنشاء جسور أو أنفاق للمشاة . - توفير خدمة حافلات للنقل العام . (ما يفيد المعنى)	٤ - ٣ - ص ٢٩
٦	تذكر	- ما هي سمات مدن الأكواخ .	- بناء المنازل من بقايا الخشب أو الصفيح الذي يتم الحصول عليه من مكبات النفايات أو مواضع البناء . - تفتقر المنازل إلى التخطيط ، وتنمو بسرعة كبيرة نظرا لازدحامها بالسكان المهاجرين من الريف . - تنقصها الخدمات الأساسية كالمياه والصرف الصحي والكهرباء و الشوارع و جمع القمامة والنفايات .	٤ - ٣ - ص ٢٧ ، ٢٨
٧	تذكر	- أكتب عن المدن المليونية الضخمة من حيث : أ - عدد سكانها : ب - أهم مشكلاتها :	أ - عدد سكانها يزيد عن ١٢ مليون نسمة . ب - مشكلة الاسكان ، ضعف مستوى الخدمات ، التلوث و ظهور بعض الأمراض ، الازدحام والاختناقات المرورية .	٤ - ٣ - ص ٢٥

٨	تطبيق		<p>أ - مشكلة الإسكان .</p> <p>ب - تظهر مشكلة الإسكان في المدن الضخمة بسبب عدم التمكن من توفير المأوى و الخدمات الكافية لمواجهة النمو السريع للمدن لذلك جميع المهاجرين يعتمدون على أنفسهم في البقاء والعيش من خلال بناء مسكن على أرض لا يملكها و بمواد غير ثابتة .</p>	٤ - ٣ - ص ٢٧
٩	تذكر	<p>١ - عدد المشكلات التي تعاني منها المدن في الدول النامية .</p> <p>أ -</p> <p>ب -</p> <p>ج -</p> <p>د -</p>	<p>أ - مشكلة الاسكان ب - ضعف مستوى الخدمات .</p> <p>ج - التلوث والصحة . د - الازدحام والاختناقات المرورية .</p>	٤ - ٣ - ص ٢٩-٢٧

١٠	قدرات / تحليل	ما النتائج المترتبة على انقطاع الكهرباء عن مدينتك لفترة سنة واحدة .	<ul style="list-style-type: none"> - تدني مستوى التجارة . - تدني الإنتاج الزراعي . - انخفاض الاستثمارات في المدينة . - اقتصار العمل على ساعات النهار . - تصبح المدينة مظلمة . (ما يفيد المعنى) 	٤ - ٤ - ص ٣٥
١١	قدرات / تقويم	<p>" الهواتف المتنقلة من وسائل الاتصالات الضرورية التي تحرص حكومة السلطنة على توفير شبكات تشغيلها للمواطنين و المقيمين على أرض عمان الغالية "</p> <p>- اقترح الاستخدامات السليمة لهذه الوسيلة.</p>	<ul style="list-style-type: none"> - استخدام الهاتف للضرورة فقط حسب مصلحة العمل . - ترك كل ما يخالف ديننا الإسلامي الحنيف أثناء الاستخدام في الكلام و المراسلات وغير ذلك . (ما يفيد المعنى) 	٤ - ٤ - ص ٣٦
١٢	قدرات / تقويم	ما هي الحلول التي تقترحها للمحافظة على المياه من الاستنزاف .	<ul style="list-style-type: none"> - المساهمة في جهود الحكومة من أجل توفير مياه صالحة للشرب من خلال : ١) عدم الإسراف في استخدام المياه . ٢) التجاوب مع الجهود المبذولة لترشيد استهلاك المياه . (ما يفيد المعنى) 	٤ - ٤ - ص ٣٣
١٣	تذكر	<p>١- ما هي البرامج التي تقدمها حكومة سلطنة عمان في مجال الإسكان الاجتماعي .</p> <p>أ -</p> <p>ب -</p>	<p>أ - برنامج المساعدات السكنية .</p> <p>ب - برنامج القروض السكنية .</p>	٤ - ٤ - ص ٣١

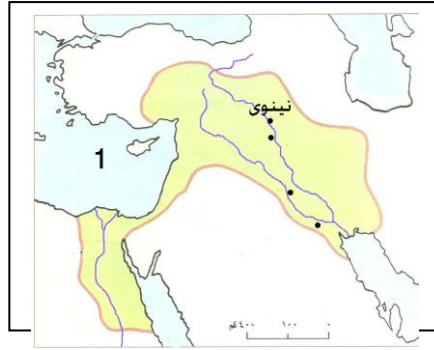
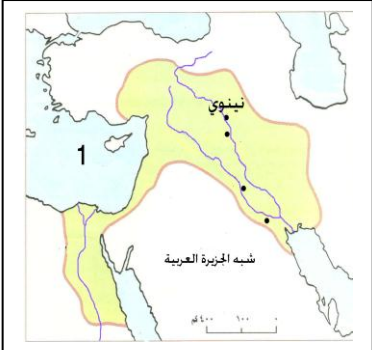
١٤	تطبيق	<p>١ - لاحظ الشكل التالي وأجب عما يلي :</p> <p>أ - ما اسم الاحتياج السكاني .</p> <p>.....</p> <p>ب - لماذا يعتبر ضروري للسكان .</p> <p>.....</p>	<p>أ - التعليم .</p> <p>ب - تزويد المتعلمين بالمعرفة .</p> <p>- غرس شعور حب الوطن و الدفاع عنه .</p> <p>- وتلبية حاجات المجتمع و تزويدهم بالمهارات الضرورية للحياة .</p> <p>- و إعداد الفرد ليكون عنصرا فاعلا في المجتمع . (ما يفيد المعنى)</p>	٤ - ٤ - ص ٣٣
١٥	تركيب	<p>رتب الاحتياجات السكانية الضرورية التي يجب تقديمها للمواطنين ترتيبا تصاعديا حسب درجة الأهمية و هي (الكهرباء ، الغذاء والماء ، الرعاية الصحية ، السكن)</p>	<p>أولا : الغذاء والماء .</p> <p>ثانيا : السكن .</p> <p>ثالثا : الرعاية الصحية .</p> <p>رابعا : الكهرباء .</p>	٤ - ٤ - ص ٣٠
١٦	تذكر	<p>- كيف عملت حكومة السلطنة لتأمين الرعاية الصحية الشاملة للمواطن .</p> <p>أ -</p> <p>ب -</p>	<p>أ - توسيع الخدمات الصحية لتشمل جميع ولايات السلطنة .</p> <p>ب - توفير الكوادر الطبية المؤهلة .</p>	٤ - ٤ - ص ٣٢

١٧	تذكر	<p>- عدد أهم وسائل الاتصالات الحديثة .</p> <p>أ -</p> <p>ب -</p> <p>ج -</p>	<p>٤ - ٤ - ص ٣٦</p> <p>- الهاتف الأرضي .</p> <p>- الهاتف المتنقل .</p> <p>- شبكة المعلومات الدولية " الانترنت "</p>
١٨	فهم	<p>- بما تفسر : اهتمام حكومة السلطنة بتوفير خدمات التعليم بكافة أنواعه للمواطنين .</p>	<p>٤ - ٤ - ص ٣٣</p> <p>- لأن التعليم يعد من الاحتياجات الأساسية للسكان حيث يساهم في تزويد المتعلمين بالمعرفة .</p> <p>- التعليم يغرس شعور حب الوطن والدفاع عنه .</p> <p>- التعليم يلبي حاجات المجتمع من خلال تزويدهم بالمهارات الضرورية للحياة و إعداد الفرد ليكون عنصرا فاعلا في المجتمع .</p>
١٧	تذكر	<p>الخط الهيروغليفي هي الكتابة التي عرفها المصريون منذ الألف الخامسة قبل الميلاد ، أكتب عن :</p> <p>أ - استخداماتها</p> <p>.....</p> <p>ب- وسائل وأدوات الكتابة</p> <p>.....</p>	<p>٥ - ١ - ص ٤١</p> <p>- استخداماتها : تسجيل النصوص الدينية ونقشها على جدران المعابد و المقابر و المسلات و تماثيل الآلهة و الملوك .</p> <p>- وسائل الكتابة : الحفر على الخشب ، النقش على الحجر ، صناعة الورق من نبات البردي ، استخدموا أقلام البوص ، و الحبر الأسود و الأحمر .</p>
١٨	فهم	<p>- بم تفسر قول هيرودوت " مصر هبة النيل " .</p> <p>.....</p>	<p>٥ - ١ - ص ٣٨</p> <p>- (لولا النيل لما وجدت مصر) اي لنهر النيل الدور الأساسي في إقامة الحضارة على ضفافه ، فتغيرت أساليب حياة الإنسان المصري بحيث : ١) استفاد من خصوبة أرض النيل فعرف الزراعة ٢) استأنس الحيوان فعمل على تربيته .</p>

١٩	تطبيق	<p>- رتب الأحداث التاريخية في الحضارة المصرية من الأقدم إلى الأحدث :</p> <p>(.....) أقامت الملكة حتشبسوت علاقات تجارية مع بلاد بونت و أطراف الجزيرة العربية .</p> <p>(.....) وحد مينا (نارمر) المملكتين في مملكة واحدة عاصمتها ممفيس (منف) و لقب ملك الأرضين .</p> <p>(.....) تمكن الأمير أحمس بمساعدة أمراء طيبة من طرد الهكسوس و توسيع البلاد .</p> <p>(.....) وقع رمسيس الثاني مع الحيثيين أقدم معاهدة سلام في التاريخ بعد معركة قادش .</p>	٣ ١ ٢ ٤	٥ - ١ - ص ٤٧ ٤٠ ٤٦ ٤٩ على التوالي
٢٠	فهم	<p>- بم تفسر : لقب الملك مينا ب : " ملك الأرضين و صاحب التاجين " .</p>		٥ - ١ - ص ٤٠
٢١	تطبيق	<p>- رتب أسماء الملوك التالية حسب أسبقيتهم لحكم مصر من الأقدم إلى الأحدث :</p> <p>(.....) توت عنخ آمون .</p> <p>(.....) حتشبسوت .</p> <p>(.....) أمنحوتب الرابع .</p> <p>(.....) تحمس الثالث .</p>	(٤) توت عنخ آمون . (١) حتشبسوت . (٣) أمنحوتب الرابع . (٢) تحمس الثالث .	٥ - ١ - ص ٤٨، ٥٧، ٥٥

٢٢	تذكر	خاض المصريون القدامى عدة معارك ضد الدول المجاورة ، منها معركة (مجدو) أكتب عن : أ- القائد المصري للمعركة (.....) ب- الطرف الثاني في المعركة (.....) ج - موقع المعركة (.....) د- الطرف المنتصر في المعركة (.....)	٥ - ١ - ص ٤٨										
٢٣	فهم	- بم تفسر " حرص قدماء المصريون على تحنيط جثث موتاهم " .	٥ - ١ - ص ٤٣										
٢٤	تذكر	- عدد العوامل التي ساعدت على قيام الحضارة المصرية .	٥ - ١ - ص ٣٨										
٢٥	تطبيق	- صنف الفراعنة التالية أسمائهم حسب العصر الذي ينتمي إليه : <table><tr><th>اسم الفرعون</th><th>العصر الذي ينتمي</th></tr><tr><td>أمنحوتب الرابع</td><td>عصر الدولة الحديثة</td></tr><tr><td>أمنحوتب الثاني</td><td>عصر الدولة الوسطى</td></tr><tr><td>خفرع</td><td>عصر الدولة القديمة</td></tr><tr><td>خوفو</td><td>عصر الدولة القديمة</td></tr></table>	اسم الفرعون	العصر الذي ينتمي	أمنحوتب الرابع	عصر الدولة الحديثة	أمنحوتب الثاني	عصر الدولة الوسطى	خفرع	عصر الدولة القديمة	خوفو	عصر الدولة القديمة	٥ - ١ - ص ٤٨ ٤٥ ٤٣ ٤٣ على التوالي
اسم الفرعون	العصر الذي ينتمي												
أمنحوتب الرابع	عصر الدولة الحديثة												
أمنحوتب الثاني	عصر الدولة الوسطى												
خفرع	عصر الدولة القديمة												
خوفو	عصر الدولة القديمة												

٢٦	تذكر	<p>- خاض المصريون القدامى عدة معارك ضد الدول المجاورة ، منها معركة (قادش) أكتب عن :</p> <p>أ- القائد المصري للمعركة (.....)</p> <p>ب- الطرف الثاني في المعركة (.....)</p> <p>ج - موقع المعركة (.....)</p> <p>د- الطرف المنتصر في المعركة (.....)</p>	<p>أ- رمسيس الثاني .</p> <p>ب- الحيثيين .</p> <p>ج - فلسطين .</p> <p>د- عقد معاهدة سلام بين الطرفين .</p>	٥ - ١ - ص ٤٩																				
٢٧	تذكر	<p>- سمي الحضارة التي تنسب إليها الكتابة الهيروغليفية :</p>	<p>- الحضارة المصرية .</p>	٥ - ١ - ص ٤١																				
٢٨	تطبيق	<p>- صنف الفراعنة التالية أسمائهم حسب العصر الذي ينتمي إليه :</p> <table><tr><th>اسم الفرعون</th><th>العصر الذي ينتمي</th></tr><tr><td>أحمس</td><td>عصر الدولة الحديثة</td></tr><tr><td>توت عنخ آمون</td><td>عصر الدولة الحديثة</td></tr><tr><td>منقرع</td><td>عصر الدولة القديمة</td></tr><tr><td>أمنحوتب الثاني</td><td>عصر الدولة الوسطى</td></tr></table>	اسم الفرعون	العصر الذي ينتمي	أحمس	عصر الدولة الحديثة	توت عنخ آمون	عصر الدولة الحديثة	منقرع	عصر الدولة القديمة	أمنحوتب الثاني	عصر الدولة الوسطى	<table><tr><th>اسم الفرعون</th><th>العصر الذي ينتمي</th></tr><tr><td>أحمس</td><td>عصر الدولة الحديثة</td></tr><tr><td>توت عنخ آمون</td><td>عصر الدولة الحديثة</td></tr><tr><td>منقرع</td><td>عصر الدولة القديمة</td></tr><tr><td>أمنحوتب الثاني</td><td>عصر الدولة الوسطى</td></tr></table>	اسم الفرعون	العصر الذي ينتمي	أحمس	عصر الدولة الحديثة	توت عنخ آمون	عصر الدولة الحديثة	منقرع	عصر الدولة القديمة	أمنحوتب الثاني	عصر الدولة الوسطى	٥ - ١ - ص ٤٦ ، ٤٨ ، ٤٣ ، ٤٥ على التوالي
اسم الفرعون	العصر الذي ينتمي																							
أحمس	عصر الدولة الحديثة																							
توت عنخ آمون	عصر الدولة الحديثة																							
منقرع	عصر الدولة القديمة																							
أمنحوتب الثاني	عصر الدولة الوسطى																							
اسم الفرعون	العصر الذي ينتمي																							
أحمس	عصر الدولة الحديثة																							
توت عنخ آمون	عصر الدولة الحديثة																							
منقرع	عصر الدولة القديمة																							
أمنحوتب الثاني	عصر الدولة الوسطى																							
٢٩	تذكر	<p>- سمي الحضارة التي ينتمي إليها الملوك التالية أسمائهم .</p> <p>أ - حمورابي :</p> <p>ب - سرجون الثاني :</p>	<p>أ - الحضارة البابلية .</p> <p>ب - الحضارة الآشورية .</p>	٥ - ٢ - ص ٥٧،٥٥																				

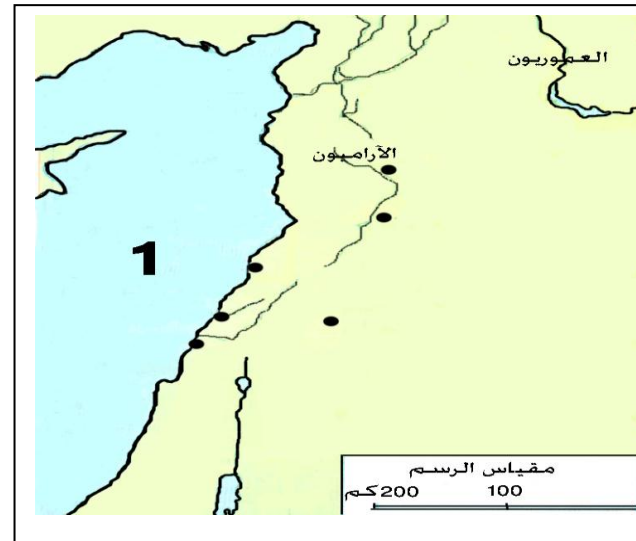
٣٠	تذكر	<p>- الكتابة المسمارية هي الكتابة التي عرفها السومريون منذ الألف الرابعة قبل الميلاد ، أكتب عن:</p> <p>أ- استخداماتها</p> <p>.....</p> <p>ب- وسائل وأدوات الكتابة</p> <p>.....</p>	<p>أ - استخداماتها : تسهيل المعاملات التجارية .</p> <p>ب - وسائل و أدوات الكتابة : سجلوا كتاباتهم على ألواح من الطين قبل تجفيفها و استخدموا للكتابة عليها أداة صنعت من العظم أو من الخيزران تشبه المسمار لذلك عرفت بالكتابة المسمارية .</p>	٥ - ٢ - ٥٣
٣١	مهاري - تطبيق	<p>- انظر للخريطة التي أمامك و أجب عما يلي :</p> <p>أ - اسم البحر المشار إليه بالرقم (١) (.....)</p> <p>ب - حدد (شبه الجزيرة العربية) كتابتها على الخريطة .</p> <p>ج - قارن بين أشهر حكام الحضارة الواضح عاصمتها (نينوى) في الخريطة في الجدول التالي :</p>	<p>أ - البحر المتوسط .</p> <p>ب - تكتب كما هو واضح في الخريطة</p>  	٥ - ٢ - ص ٥٨

		<table><tr><td>الانجازات</td><td>اسم الحاكم</td></tr><tr><td>اهتم بالجيش و زوده بالعجلات الحربية و الأسلحة المصنوعة من الحديد و شجع الفنون والآداب و التجارة والصناعة .</td><td>أ - سرجون الثاني :</td></tr><tr><td>كان مغرما بالعمارة و الأدب فجمع علوم البابليين و آدابهم وسجلها على ألواح طينية و حفظها في مكتبة نينوى العاصمة الجديدة للأشوريين</td><td>ب - آشور بانيبال :</td></tr></table>	الانجازات	اسم الحاكم	اهتم بالجيش و زوده بالعجلات الحربية و الأسلحة المصنوعة من الحديد و شجع الفنون والآداب و التجارة والصناعة .	أ - سرجون الثاني :	كان مغرما بالعمارة و الأدب فجمع علوم البابليين و آدابهم وسجلها على ألواح طينية و حفظها في مكتبة نينوى العاصمة الجديدة للأشوريين	ب - آشور بانيبال :		
الانجازات	اسم الحاكم									
اهتم بالجيش و زوده بالعجلات الحربية و الأسلحة المصنوعة من الحديد و شجع الفنون والآداب و التجارة والصناعة .	أ - سرجون الثاني :									
كان مغرما بالعمارة و الأدب فجمع علوم البابليين و آدابهم وسجلها على ألواح طينية و حفظها في مكتبة نينوى العاصمة الجديدة للأشوريين	ب - آشور بانيبال :									
٣٢	تذكر	٢ - ما الموقع الجغرافي لبلاد الرافدين .	٥ - ٢ - ص ٥١	- تقع في القسم الجنوبي الغربي من قارة آسيا في ما بين هضبة الأناضول شمالا و الخليج العربي جنوبا .						

٣٣	تذكر	- ما الموقع الجغرافي لبلاد الشام .	٥ - ٣ - ٦٢	تقع بلاد الشام في جنوبي غربي قارة آسيا ، وتمتد بين جبال طوروس شمالا و شبه الجزيرة العربية جنوبا
٣٤	تذكر	- سمي الحضارة التي ينتمي إليها الملوك التالية أسماهم أ - نارام سن : ب - نبوخذ نصر الثاني :	٥ - ٢ - ص ٥٩ ، ٥٤	أ - الحضارة الآكادية . ب - الحضارة الكلدانية .
٣٥	تذكر	- أكتب ما تعرفه عن الحقائق المتعلقة .	٥ - ٢ - ص ٥٩	هي مدرجات زرعت بالأشجار المثمرة و الأزهار ، وكانت المياه ترفع إليها بواسطة روافع و بنى نبوخذ نصر في وسطها قصر لزوجه في بابل .
٣٦	قدرات / تحليل	- استنتج العوامل التي ساعدت على قيام حضارات بلاد الرافدين .	٥ - ٢ - ص ٥٢	- توفر المياه (نهري دجلة و الفرات) . - وجود السهل الجنوبي الذي يعد من أخصب بقاع العالم و هو سهل رسوبي يتكون من تربة خصبة . - المناخ الملائم الذي يساعد على استقرار السكان .
٣٧	تذكر	أكتب قانون متعلق بالأحوال الشخصية لعمورابي .	٥ - ٢ - ص ٥٦	- إذا تزوج رجل امرأة و أصيبت بمرض ، يستطيع أن يتزوج من غيرها ، ولكن لا يحق له أن يطلق زوجته المريضة ، وعليه أن يبقيها في البيت ويعيّلها .

	<p>٥ - ٣ - ص ٦٢</p>	<p>أ - الحضارة الأمورية . ب - نهر الفرات . ج - البحر المتوسط . د - سوريا . و - الاشتغال بالزراعة المروية والسيطرة على الطرق التجارية التي تمر بعاصمتهم ماري .</p>	<p>- لاحظ الخريطة التي أمامك و أجب عما يلي : أ - ما اسم الحضارة المشار إليها بالرقم (١) ب - ما اسم النهر القائمة على ضفافه الحضارة المشار إليها بالرقم (٢) ج - ما اسم البحر المشار إليه بالرقم (٣) د - ما اسم الدولة الحالية التي توجد فيها آثار مدينة ماري التاريخية و- وضح أهمية موقع الحضارة المشار إليها بالرقم (١)</p>	<p>٣٨ مهاري تطبيق</p>
--	-------------------------	---	---	-------------------------------

٣٩	قدرات / تركيب	استنتج أوجه الشبه بين حضارة مجان و الحضارة الفينيقية .	<p>٥ - ٣ - ص ٦٦،٦٧</p> <p>- وجود الجبال التي كانت تعيق التجارة مع الدول المجاورة برا .</p> <p>- وفرة الأخشاب التي ساعدتهم على صناعة السفن التي عبروا بها البحر .</p> <p>- المتاجرة بمنتجاتهم من موانئهم المحلية إلى موانئ الدول المجاورة</p>
٤٠	تذكر	سمي أشهر الدويلات الأمورية التي ظهرت في العام (١٥٠٠ ق . م بعد ضم الدولة الأمورية إلى الإمبراطورية البابلية الأولى .	<p>٥ - ٣ - ص ٦٣</p> <p>أ - دولة حوران جنوب سوريا</p> <p>ب - دولة حسان في الأردن .</p>
٤١	فهم	- بم تفسر : يعتبر الفينيقيون أول أمة بحرية .	<p>٥ - ٣ - ص ٦٦</p> <p>- الموقع الجغرافي حيث جبال لبنان كانت تعيق التجارة مع داخل سوريا ، ووفرة الأخشاب الأمر الذي ساعدهم على صناعة السفن التي عبروا بها البحر و تاجروا بمنتجاتهم من موانئهم المحلية في لبنان مثل صيدا وصور و جبيل .</p>



- انظر الى خريطة حضارات بلاد الشام التي امامك ثم
اجب عما يلي:

أ - ما اسم البحر المشار إليها بالرقم (١)

.....

ب - حدد موقع الحضارة الفينيقية
من خلال كتابة اسم الحضارة الفينيقية
على الخريطة المقابلة في المكان الصحيح .

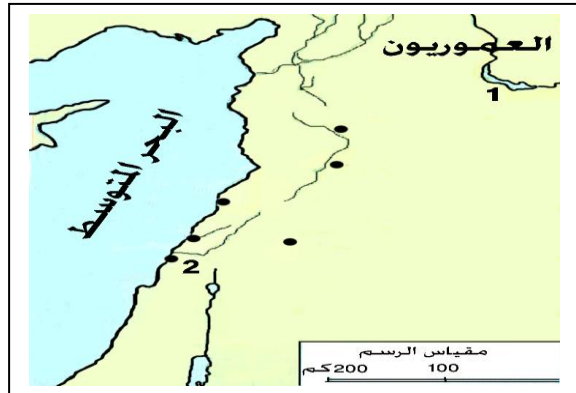
أ - البحر المتوسط .

ب - كتابة الفينيقيين في الخريطة كما هو
واضح في الخريطة المقابلة



٥ - ٣ - ص
٦٧

٤٣	تطبيق	قارن بين العموريين و الفينيقيين في الجدول التالي : <table><tr><td>وجه المقارنة</td><td>العموريين</td><td>الفينيقيين</td></tr><tr><td>الموقع الجغرافي</td><td>.....</td><td>.....</td></tr><tr><td></td><td>.....</td><td>.....</td></tr><tr><td></td><td>.....</td><td>.....</td></tr></table>	وجه المقارنة	العموريين	الفينيقيين	الموقع الجغرافي
وجه المقارنة	العموريين	الفينيقيين												
الموقع الجغرافي												
												
												
		<table><tr><td>الفينيقيين</td><td>العموريين</td><td>وجه المقارنة</td></tr><tr><td>المنطقة الساحلية من بلاد الشام</td><td>سهول بلاد الشام الشمالية</td><td>الموقع الجغرافي</td></tr></table>	الفينيقيين	العموريين	وجه المقارنة	المنطقة الساحلية من بلاد الشام	سهول بلاد الشام الشمالية	الموقع الجغرافي						
الفينيقيين	العموريين	وجه المقارنة												
المنطقة الساحلية من بلاد الشام	سهول بلاد الشام الشمالية	الموقع الجغرافي												

٤٤	مهاري / تطبيق	<p>- لاحظ الخريطة التي أمامك و أجب عما يلي :</p>  <p>أ - اسم النهر المشار إليه بالرقم (١)</p> <p>ب - أحد الموانئ المحلية التي تاجر الفينيقيون من خلاله بمنتجاتهم عبر البحر والمشار إليه بالرقم (٢)</p>
		<p>أ - نهر الفرات .</p> <p>ب - ميناء صور .</p>

