



جغرافيا

الصف 2 الثانوى

مقترح النماذج الاسترشادية لشهر فبراير

العام الدراسى

2023 - 2024م

نموذج (١)

(أ) اختر الإجابة الصحيحة من بين (أ)، (ب)، (ج)، (د) فيما يلي:

١ إقامة الدولة للمدن الجديدة ونقل سكان المناطق العشوائية إليها يعكس اهتمامها باتباع إحدى استراتيجيات التنمية الاقتصادية بالدولة، وهي

- (أ) تحسين البنية التحتية
(ب) ضبط معدلات النمو السكاني
(ج) الاهتمام بالتعليم والبحث العلمي
(د) الاهتمام بالتنمية الاجتماعية

٢ «تسعى الدولة إلى الوصول إلى الاقتصاد الأخضر». أى الأحداث التالية يشير إلى جهود مصر للوصول إلى هذا الهدف؟

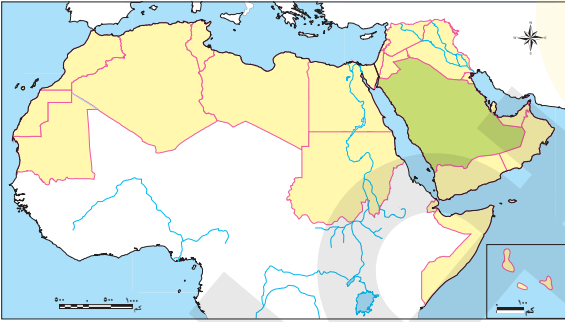
- (أ) استضافة قمة المناخ
(ب) مؤتمر شباب العالم
(ج) مبادرة «حياة كريمة»
(د) مبادرة «١٠٠ مليون صحة»

٣ يمكن للدول تحقيق التوسع الرأسى فى الزراعة عن طريق

- (أ) استصلاح الأراضى الصحراوية
(ب) الحد من البناء على الأراضى الزراعية
(ج) استخدام البذور الجيدة
(د) زراعة المحاصيل الصناعية

٤ تتعارض التنمية الصناعية بالدول النامية مع وجود

- (أ) عدد كبير من السكان
(ب) المنظمات الدولية
(ج) القروض الأجنبية
(د) التدخل الحكومى



٥ أى الحيوانات التالية يصعب تربيتها فى الدول المحددة على الخريطة؟

- (أ) الإبل
(ب) الجاموس
(ج) الماعز
(د) الأغنام

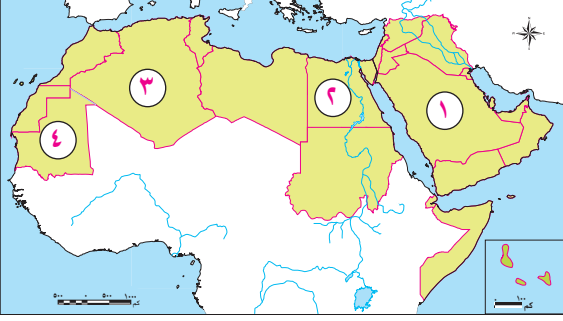
٦ صناعة تعبئة وتعليب الفاكهة هى إحدى الصناعات

- (أ) الزراعية - الإنتاجية - الخفيفة - التحويلية
(ب) الزراعية - الاستهلاكية - الثقيلة - التحويلية
(ج) الزراعية - الاستهلاكية - الخفيفة - الاستخراجية
(د) الزراعية - الاستهلاكية - الخفيفة - التحويلية

٧ تساهم الصناعات الاستخراجية بنسبة كبيرة فى الدخل القومى لدولة

- (أ) الكويت
(ب) سوريا
(ج) السودان
(د) اليمن

(ب) أجب عن الأسئلة الآتية:



١ ادرس الخريطة المقابلة، وأجب عما يأتي:

(أ) أكبر دول الوطن العربي إنتاجاً للثروة السمكية من المصايد

الداخلية تحمل الرقم

(ب) وضح أسباب ضعف مساهمة الصناعات التحويلية في

النتائج المحلي للدولة رقم (٤).

.....

.....

.....

.....

٢ ما أوجه الارتباط بين التكنولوجيا الحديثة والإنتاج الزراعي في الوطن العربي؟

.....

.....

.....

.....

٣ اقترح سبباً لتحقيق الأمن الغذائي العربي.

.....

.....

.....

.....

نموذج (٢)

(أ) اختر الإجابة الصحيحة من بين (١)، (ب)، (ج)، (د) فيما يلي:

١ أدى تصدير موريتانيا لخام الحديد بكميات كبيرة إلى

- (١) تطور القدرات الصناعية بها (ب) تراجع التجارة الخارجية
(ج) تحسن صناعة الحديد والصلب (د) ضعف الصناعات المعدنية

٢ تتركز تربية الإبل في ركن الجناح العربي الإفريقي

- (١) الجنوبي الشرقي (ب) الشمالي الشرقي (ج) الشمالي الغربي (د) الجنوبي الغربي

٣ أى مسطح مائي مما يلي تشرف عليه الدولة التي تقع بها المنظمة العربية للتنمية الصناعية ؟

- (١) الخليج العربي (ب) خليج عمان (ج) البحر الأحمر (د) المحيط الأطلنطي

٤ يرجع تغيير كميات الواردات الزراعية

للدول العربية على النحو الموجود بالجدول

التالي إلى

(١) تطور الصناعات الغذائية

(ب) تناقص كميات الأمطار

(ج) انتشار الزراعة المروية

(د) ارتفاع معدلات الزيادة الطبيعية

٥ تزداد احتمالية زيادة الإنتاج السمكي من المصايد الداخلية لدولة ليبيا إذا تشابهت تضاريسها مع دولة

- (١) السعودية (ب) عُمان (ج) الأردن (د) مصر

٦ أبرز التبعات الاقتصادية لارتفاع أسعار النفط

(١) زيادة الرقعة الزراعية (ب) زيادة إنتاج المحاصيل الزيتية

(ج) تجريف الأراضي الزراعية (د) التوسع في زراعة فول الصويا

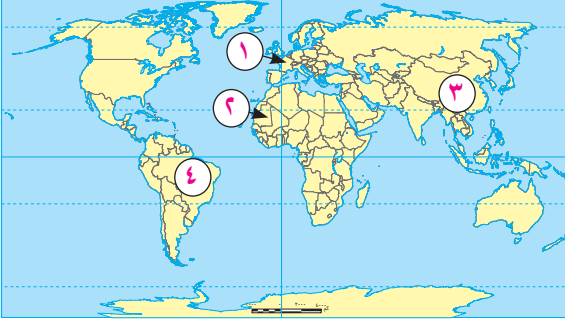
٧ يعود السبب الرئيس لوجود اختلافات واضحة بين المنتجات الصناعية في الدول المتقدمة ومثيلتها في الدول النامية

إلى

- (١) التفوق التقني (ب) مصادر الطاقة (ج) القروض الأجنبية (د) المواد الخام

الواردات الزراعية	٢٠٠٠ م	٢٠١٢ م	معدل الزيادة
الحبوب والدقيق	٤٨	٦٨	٪٤٣
السكر الخام (قبل التكرير)	٤,٨	١٠,٤	٪١١٧
البقوليات	٠,٨٢	١,٦	٪٩٥
الفاكهة	٢,٣	٥	٪١١٧

(ب) أجب عن الأسئلة الآتية:



١ ادرس الخريطة المقابلة، وأجب عما يأتي:

(أ) أى من الدول المُحددة على الخريطة تقع في نطاق القوى

المحركة؟ الدولة رقم.....

(ب) أى من الدول المُحددة على الخريطة تعمل

منظمة «الإيدمو» على تطوير نشاطها الصناعي؟

الدولة رقم.....

٢ بم تفسر: أهمية مشروعات البنية التحتية في تحقيق التنمية الاقتصادية؟

.....

.....

.....

.....

٣ وضح أوجه الارتباط بين المنظمات الإقليمية والإنتاج الصناعي العربي.

.....

.....

.....

.....

نموذج (٣)

(أ) اختر الإجابة الصحيحة من بين (أ)، (ب)، (ج)، (د) فيما يلي :

١ ترتب على مستوى مستلزمات الإنتاج الصناعى بدولة النيجر

- (أ) قلة رءوس الأموال الوطنية
(ب) ارتفاع تكلفة الإنتاج
(ج) قلة المنتجات المستوردة
(د) نقص الأيدى العاملة

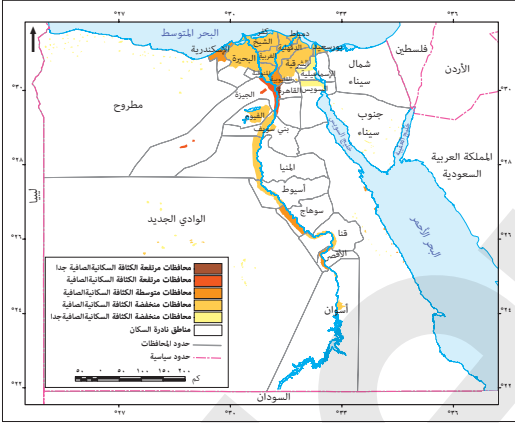
٢ صناعة دبغ الجلود هى إحدى الصناعات

- (أ) الحيوانية - الإنتاجية - الخفيفة - التحويلية
(ب) الزراعية - الاستهلاكية - الثقيلة - التحويلية
(ج) الزراعية - الاستهلاكية - الخفيفة - الاستخراجية
(د) الحيوانية - الاستهلاكية - الخفيفة - التحويلية

٣ يمكن للقطاع الصناعى من خلال استيعاب مزيد من العمالة التغلب على معوقات التنمية

- (أ) الاقتصادية
(ب) السياسية
(ج) الاجتماعية
(د) الإدارية

٤ توضح الخريطة المقابلة إحدى العقبات التنموية



- (أ) الاقتصادية
(ب) الإدارية
(ج) السياسية
(د) الاجتماعية

٥ تربي الحيوانات فى الوطن العربى طبيعياً فى نحو

- (أ) ربع مساحته
(ب) ثلث مساحته
(ج) نصف مساحته
(د) ثلثى مساحته

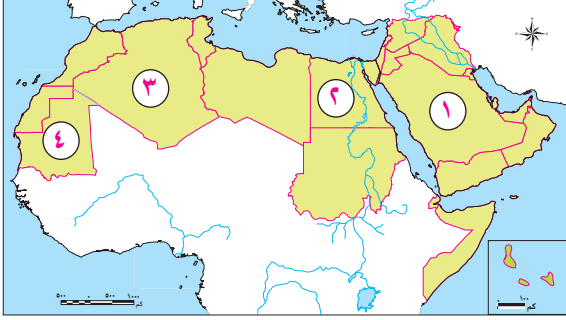
٦ أولى الدول العربية استفادة من الإنتاج الحيوانى

- (أ) مصر
(ب) السودان
(ج) السعودية
(د) المغرب

٧ تعد التجربة الأوغندية مثلاً لتطبيق إحدى استراتيجيات التنمية الاقتصادية، وهى

- (أ) ربط السياسات الاقتصادية بالبيئة
(ب) تحسين البنية التحتية
(ج) تطوير التعليم والبحث العلمى
(د) ضبط معدلات النمو السكانى

(ب) أجب عن الأسئلة الآتية:



١ ادرس الخريطة المقابلة، وأجب عما يأتي:

(أ) أكثر دول الوطن العربي استقطاباً للاستثمارات الخارجية

عام ٢٠١٢ م تحمل رقم

(ب) ساهمت البيئة الفيضية في ضخامة إنتاج الجاموس في

الدولة رقم

٢ وضح أسباب تحول الإنتاج الصناعي العالمي تدريجيًا من البلدان المتقدمة إلى البلدان النامية.

.....

.....

.....

.....

٣ اقترح سببًا لزيادة معدلات التنمية الاقتصادية بالوطن العربي.

.....

.....

.....

.....